


【小学算数】

入試実戦演習

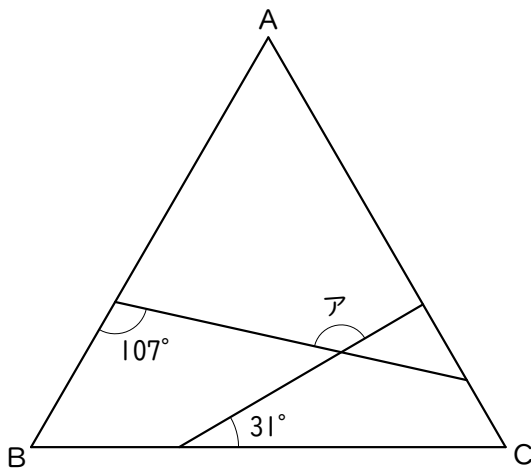
233




Success+

学年		クラス		氏名	
----	--	-----	--	----	--

図の角アは何度ですか。ただし、三角形ABCは正三角形です。



学年		クラス		氏名	解答・解説
----	--	-----	--	----	-------



【解答】

 136°

【解説】

下の図の赤い四角形で、角イの大きさは $(180 - 31 =) 149^\circ$ なので、
角ウの大きさは $(360 - 107 - 60 - 149 =) 44^\circ$ です。

よって、角アの大きさは $(180 - 44 =) 136^\circ$ になります。

