


【小学算数】

# 入試実戦演習

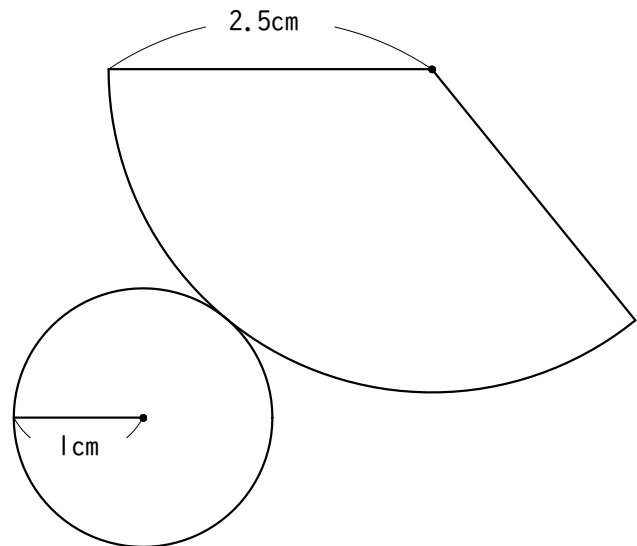
230



学年		クラス		氏名	
----	--	-----	--	----	--

Success+


右の図のような円すいの展開図があります。  
側面のおうぎ形の中心の角は何度ですか。



【小学算数】

# 入試実戦演習

230



Success+

学年		クラス		氏名	解答・解説
----	--	-----	--	----	-------

【解答】

【解説】