


【小学算数】

入試実戦演習

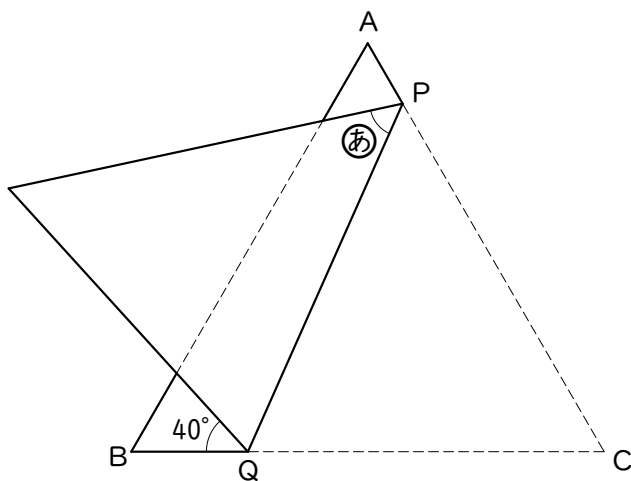
291



Success+

学年		クラス		氏名	
----	--	-----	--	----	--

下の図のように、正三角形ABCをPQで折りました。角 $\textcircled{あ}$ の大きさは ° です。




学年

クラス

氏名

解答・解説



Success+

【解答】

50°

【解説】

右の図で、①の角の大きさは、

$(180 - 40) \div 2 = 70$ [°] です。

角Rの大きさは 60° なので、

②の角の大きさは、

$180 - (70 + 60) = 50$ [°] です。

